

Определите, на каком из рисунков изображен график функции  $y = \log_a x$  при  $0 < a < 1$ .

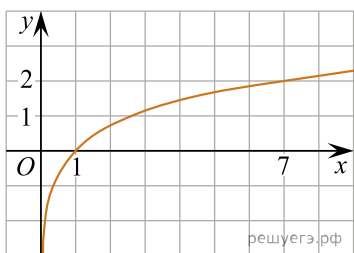


Рис. а)

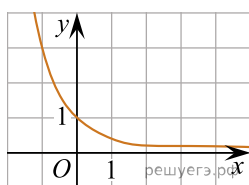


Рис. б)

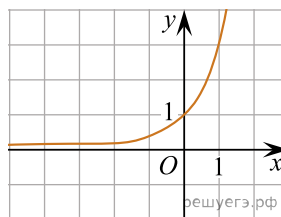


Рис. в)

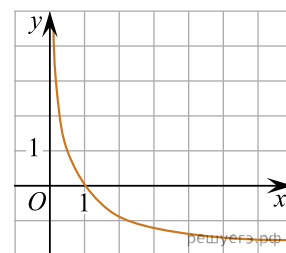


Рис. г)