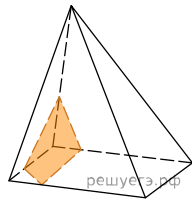
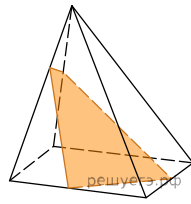


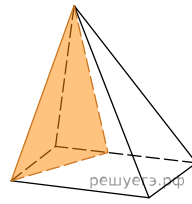
Укажите рисунок, на котором изображено сечение четырехугольной пирамиды плоскостью:



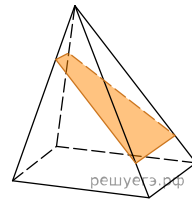
а)



б)



в)



г)