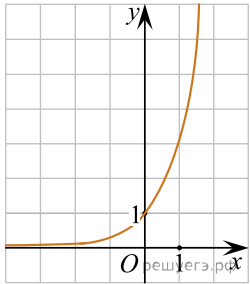
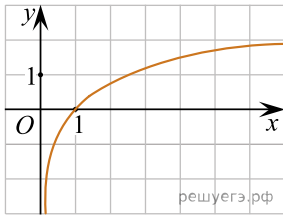


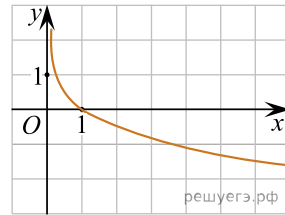
Укажите рисунок, на котором изображен график функции $y = \log_a x$, где $a > 1$:



а)



б)



в)