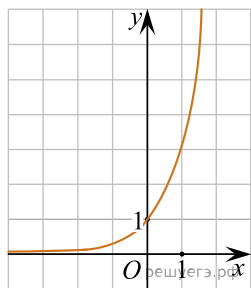
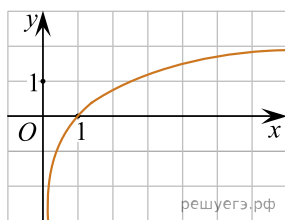


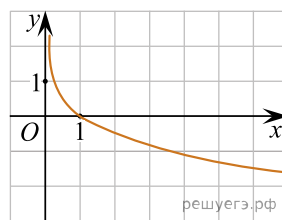
Укажите рисунок, на котором изображен график функции  $y = \log_a x$ , где  $a > 1$ :



а)



б)



в)