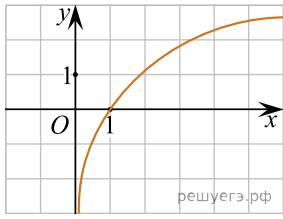
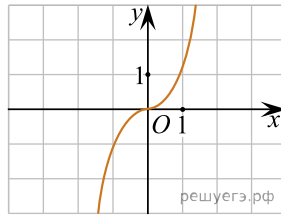


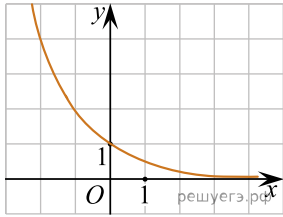
Из приведенных графиков выберите график функции  $y = \log_a x$ , где  $0 < a < 1$ :



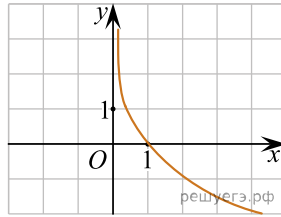
а)



б)



в)



г)