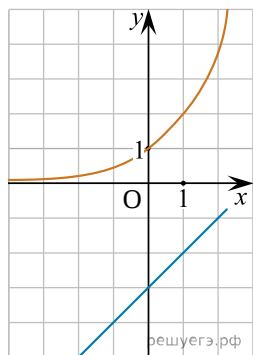
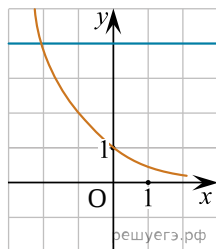


Укажите рисунок, на котором изображена графическая иллюстрация системы уравнений

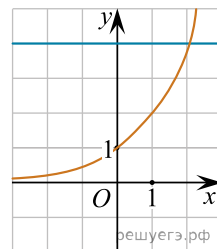
$$\begin{cases} y = 2^x, \\ y = 4: \end{cases}$$



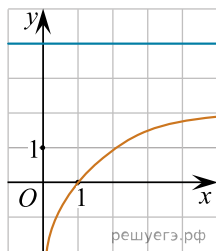
а)



б)



в)



г)