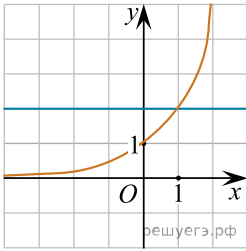
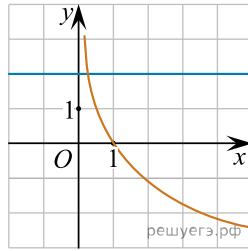


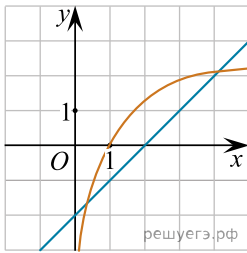
Укажите рисунок, на котором изображена графическая иллюстрация системы уравнений $\begin{cases} y = \log_2 x, \\ y = 2 : \end{cases}$



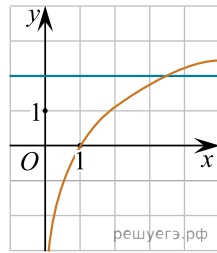
а)



б)



в)



г)