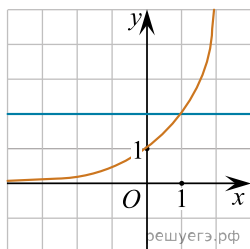
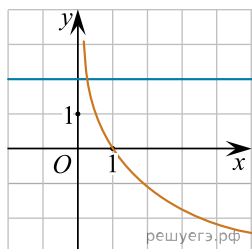


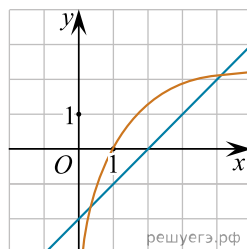
Укажите рисунок, на котором изображена графическая иллюстрация системы уравнений

$$\begin{cases} y = \log_2 x, \\ y = 2: \end{cases}$$


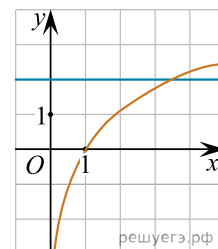
а)



б)



в)



г)