

Выберите рисунок, на котором изображена графическая модель системы уравнений $\begin{cases} y = 2^x, \\ x = 2. \end{cases}$

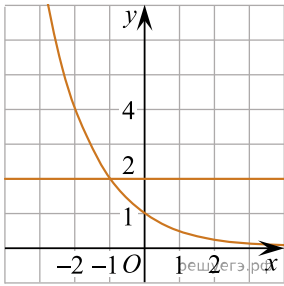


Рис. а)

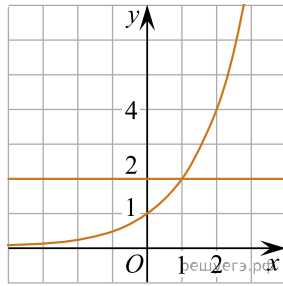


Рис. б)

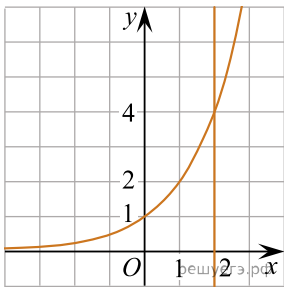


Рис. в)

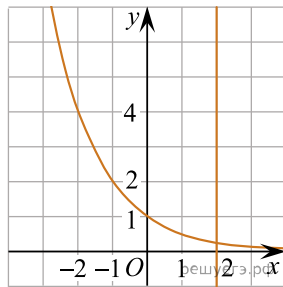


Рис. г)