

Выберите рисунок, на котором изображена графическая модель системы уравнений

$$\begin{cases} y = \left(\frac{1}{2}\right)^x, \\ y = 2. \end{cases}$$

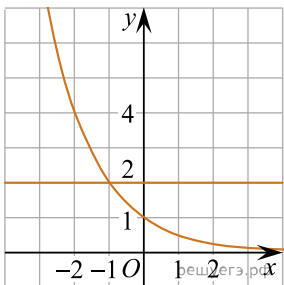


Рис. а)

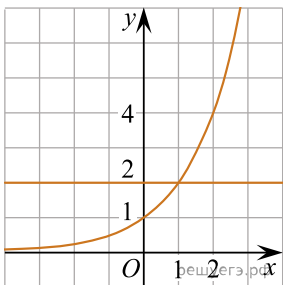


Рис. б)

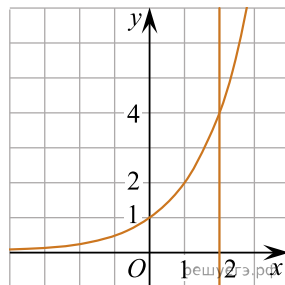


Рис. в)

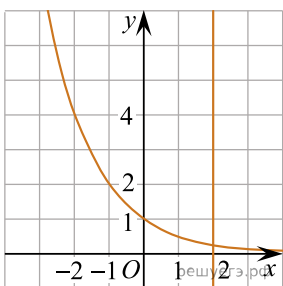


Рис. г)